



24º ROTEIRO DE ATIVIDADES COMPLEMENTARES DE ESTUDO – COVID 19

ESCOLA MUNICIPAL GERALDA CHAVES TIRADENTES

PROFESSOR: Maria Fernanda

COMPONENTES CURRICULARES: LÍNGUA PORTUGUESA, MATEMÁTICA E

PSICOMOTRICIDADE

TURMA: SALA DE RECURSOS – 3º E 4º ANO

PERÍODO DE REALIZAÇÃO: 09/08 A 13/08

ALUNO (A): _____

Senhores pais e responsáveis

No roteiro a seguir estão as atividades e todas as orientações para sua execução. Tudo está descrito de forma simples. Mas se houver alguma dúvida podem entrar em contato comigo pelo *Whatsapp*, estarei à disposição para ajudar.

Seu filho deverá realizar todas as atividades **nas folhas impressas**. Cuidem-se e cuidem de sua família. Em breve tudo estará bem.

Um abraço,

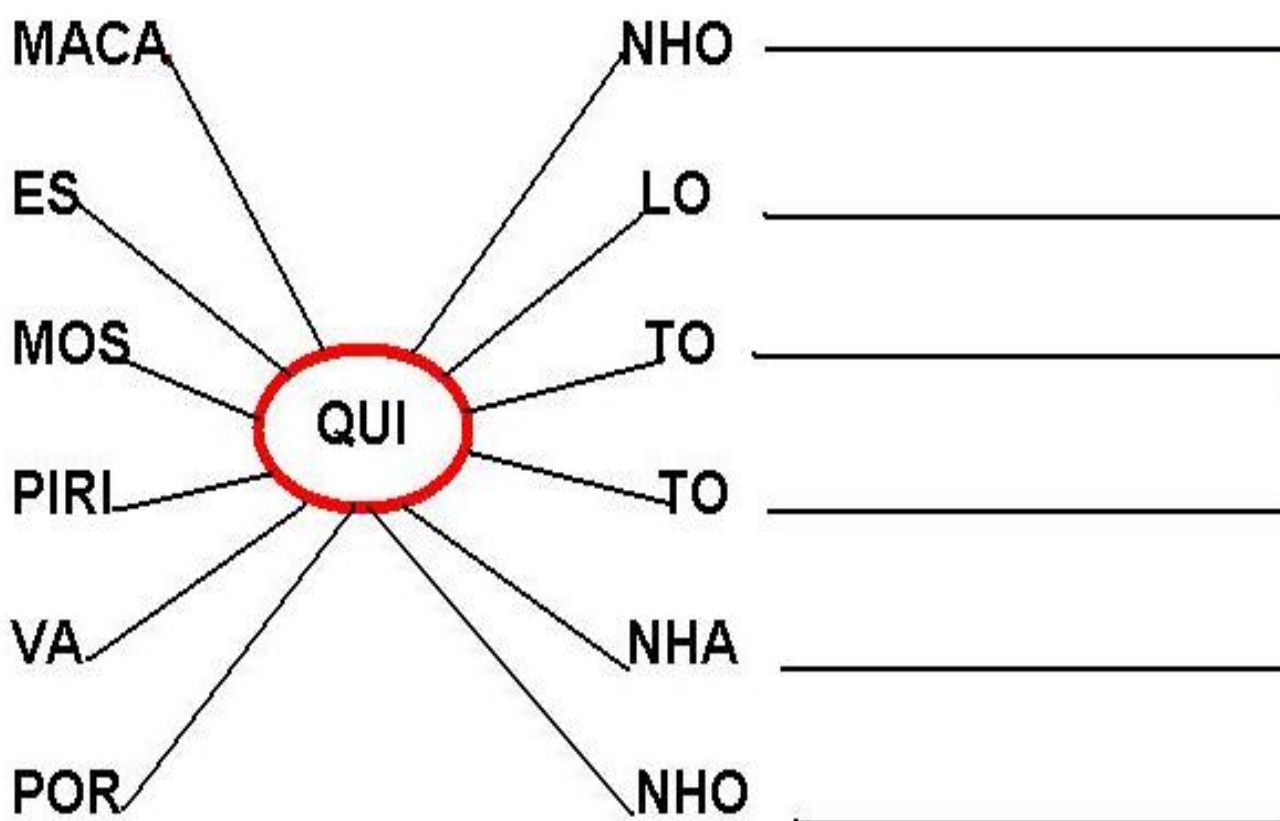
Professora Maria Fernanda

<p>APRESENTAÇÃO DO PROFESSOR</p>	<p>OLÁ QUERIDO (A) ALUNO (A)!</p> <p>VOCÊ DEVERÁ OUVIR O ÁUDIO EXPLICATIVO QUE ESTÁ DISPONÍVEL EM NOSSO GRUPO PARA REALIZAR AS ATIVIDADES.</p>
<p>O QUE VOCÊ VAI ESTUDAR:</p>	<ul style="list-style-type: none"> - FORMAÇÃO DE PALAVRAS - CAÇA RESULTADO - EM BUSCA DO MAPA - LIGUE OS PONTOS
<p>PARA QUE VAMOS ESTUDAR ESSES CONTEÚDOS?</p>	<ul style="list-style-type: none"> - AMPLIAR O VOCABULÁRIO, ESCREVER CORRETAMENTE E ESTABELECEER UMA RELAÇÃO COM AS REGRAS ORTOGRÁFICAS - ANALISAR AS RELAÇÕES ENTRE SÉRIE NUMÉRICA ORAL E ESCRITA E COMPREENDER O VALOR POSICIONAL DOS ALGARISMOS - DESENVOLVER HABILIDADES COMO A COORDENAÇÃO MOTORA E O SENSO DIRECIONAL OU LATERALIDADE - TRABALHAR A COORDENAÇÃO MOTORA FINA
<p>ATIVIDADE PARA REALIZAR ESSA ATIVIDADE VOCÊ PRECISARÁ DE ALGUNS MATERIAIS:</p>	<p>AS ATIVIDADES SERÃO REALIZADAS COM MATERIAL IMPRESSO, PROPOSTOS NOS ROTEIROS ENVIADOS PARA OS ALUNOS.</p>



FORMAÇÃO DE PALAVRAS


PRESTE A ATENÇÃO NA TEIA, FORME AS PALAVRAS E ESCREVA
NAS LINHAS AO LADO





CAÇA RESULTADO

Nesta atividade vocês irão resolver as continhas de adição e procurar os resultados dentro do caça – numeral na tabela abaixo:



Resolva as adições e procure os resultados no caça-palavras:

$$\begin{array}{r} \text{CDU} \\ 155 \\ + 493 \\ \hline \end{array}$$

$$\begin{array}{r} \text{CDU} \\ 541 \\ + 264 \\ \hline \end{array}$$

$$\begin{array}{r} \text{CDU} \\ 419 \\ + 154 \\ \hline \end{array}$$

$$\begin{array}{r} \text{CDU} \\ 173 \\ + 166 \\ \hline \end{array}$$

$$\begin{array}{r} \text{CDU} \\ 437 \\ + 316 \\ \hline \end{array}$$

$$\begin{array}{r} \text{CDU} \\ 472 \\ + 174 \\ \hline \end{array}$$


$$\begin{array}{r} \text{CDU} \\ 330 \\ + 498 \\ \hline \end{array}$$

$$\begin{array}{r} \text{CDU} \\ 343 \\ + 528 \\ \hline \end{array}$$



EM BUSCA DO MAPA


Temos três piratas e vários caminhos, qual destes piratas irá chegar ao mapa? Descubra qual trajeto irá ser percorrido para chegar até ao destino.





LIGUE OS PONTOS

Ligue os pontos dos numerais completando o **JERRY** e depois pinte o desenho.





TRANSFORMANDO

Transforme os substantivos destacados em adjetivos, conforme o modelo

Quem tem carinho:	<i>carinhoso</i>
-------------------	------------------

- 1- Quem tem **bondade**: _____
- 2- Quem tem **vaidade**: _____
- 3- Quem tem **amor**: _____
- 4- Quem tem **gula**: _____
- 5- Quem tem **fama**: _____
- 6- Quem tem **perigo**: _____
- 7- Quem tem **medo**: _____
- 8- Quem tem **preguiça**: _____
- 9- Quem tem **orgulho**: _____
- 10- Quem tem **charme**: _____
- 11- Quem tem **habilidade**: _____
- 12- Quem tem **coragem**: _____
- 13- Quem tem **teimosia**: _____
- 14- Quem tem **capricho**: _____





DESCOBRINDO

1. Complete as tabelas:

DOBRO	
76	
25	
52	
45	
83	
14	

TRIPLO	
76	
25	
52	
45	
83	
14	

METADE	
76	
22	
52	
38	
94	
14	

2. Cebolinha e Cascão estão jogando futebol com os amigos. Sabendo que Cebolinha fez 5 gols, responda as questões:

Se Cascão fez triplo de gols que Cebolinha.
Quantos gols Cascão fez?



Se o time de Cascão tem 20 gols, e o de Cebolinha a metade. Quantos gols tem o time de Cebolinha?



ORGANIZE AS FRASES

Nesta atividade as palavras estão embaralhadas, ou seja, iremos precisar colocar em ordem e descobrir qual é a frase correta



MÉDICO	BEBÊ.	O	EXAMINOU	O
--------	-------	---	----------	---



.....

ÁRVORE.	GATO	NA	SUBIU	O
---------	------	----	-------	---

.....

VOVÓ	BOLO	O	GOSTOSO.	DA	É
------	------	---	----------	----	---

.....

PEIXE	NO	O	ESTÁ	ÂQUARIO.
-------	----	---	------	----------

.....

MENINA	CAIU	A	RUA	NA
--------	------	---	-----	----

.....

É	LIMÃO	O	AZEDO
---	-------	---	-------

.....



VALORES

Veja a tabela dos preços:



- Qual deles é o mais caro? _____
- E o mais barato? _____
- Para comprar os três produtos eu preciso de _____

- SUCO + CAFÉ: _____
- LEITE + CAFÉ: _____
- LEITE + SUCO: _____
- LEITE - CAFÉ: _____
- LEITE - SUCO: _____
- SUCO - CAFÉ: _____

- Escreva-os em palavras:

R\$1,50 _____

R\$0,50 _____

R\$2,00 _____